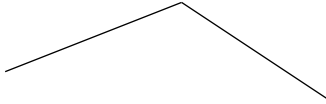


Jméno: _____

Dorýsuj geometrické útvary.


pětiúhelník



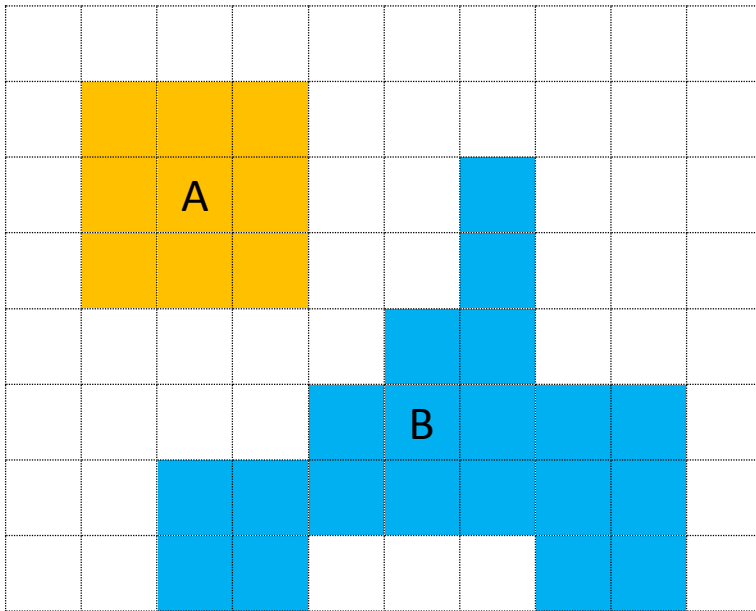
čtyřúhelník



trojúhelník



Vypočítej obvod a obsah.



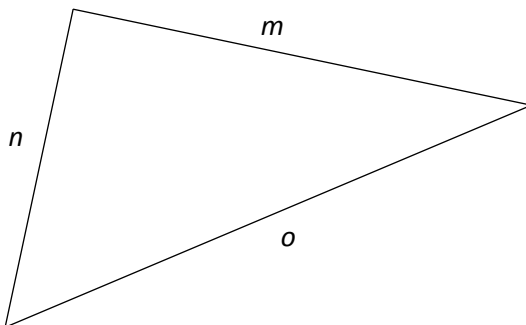
Obvod A: _____ cm

Obsah A: _____ □

Obvod B: _____ cm

Obsah B: _____ □

Podle popisu stran označ vrcholy trojúhelníku. Změř jeho strany a délky zapiš. Vypočítej obvod.



$|MN| =$ _____

$|NO| =$ _____

$|OM| =$ _____

Obvod = _____

Pomocí tečkovaného papíru narýsuj čtverec KLMN tak, aby strana k měřila 3 cm.



Narýsuj obdélník ABCD podle zápisu. Použij trojúhelník s ryskou.

$$|AB| = 6 \text{ cm}$$

$$|BC| = 2 \text{ cm}$$

Maminka zakládala novou zahrádku. Ta má rozměr 5 metrů na 10 metrů. Vypočítej, kolik plotu kolem musí maminka koupit. Narýsuj zahrádku (1 m = 1 cm) a vyznač barevně plot. Napiš odpověď.

Odpověď: _____